

ETC 1 TE

9.06.20

10H¹⁵ - 11H³⁰

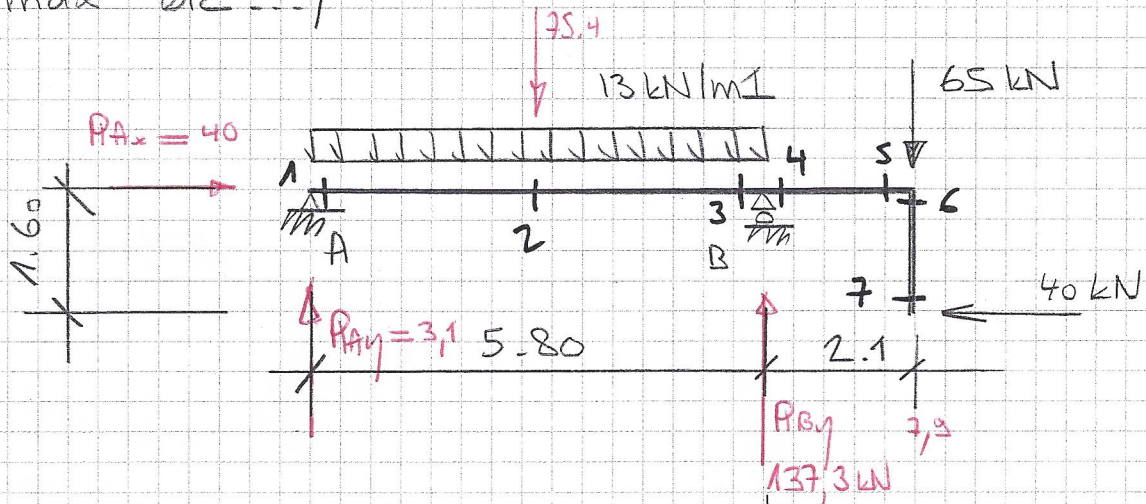
1h³⁰

Nom : _____

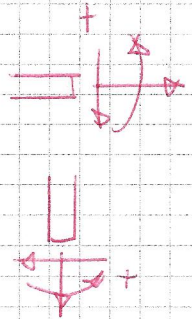

Note

Efforts intérieurs

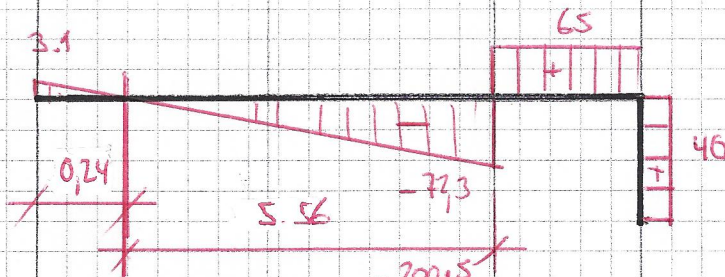
1- On vous demande de déterminer le diagramme des efforts intérieurs de la structure ci-dessous avec toutes les valeurs caractéristiques (moment min max etc...)



N

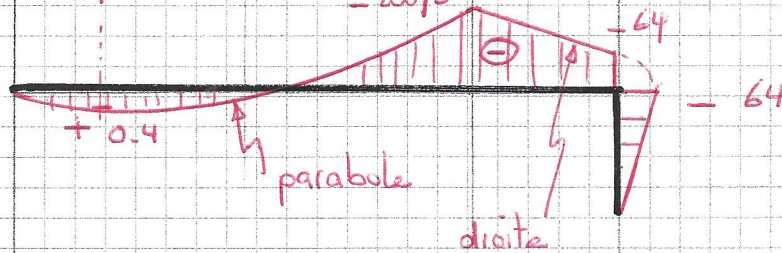


V



$\Sigma \text{surface} \approx 0$

M



Réappuis = 10 pts

Coupe calcul 10 pts

Diagrammes N = 7 pts

V = 8 pts

M = 15 pts

N V M =

AF TOSCANO

